

**Examenul național de bacalaureat 2022**  
**Proba E. d)**  
**Geografie**

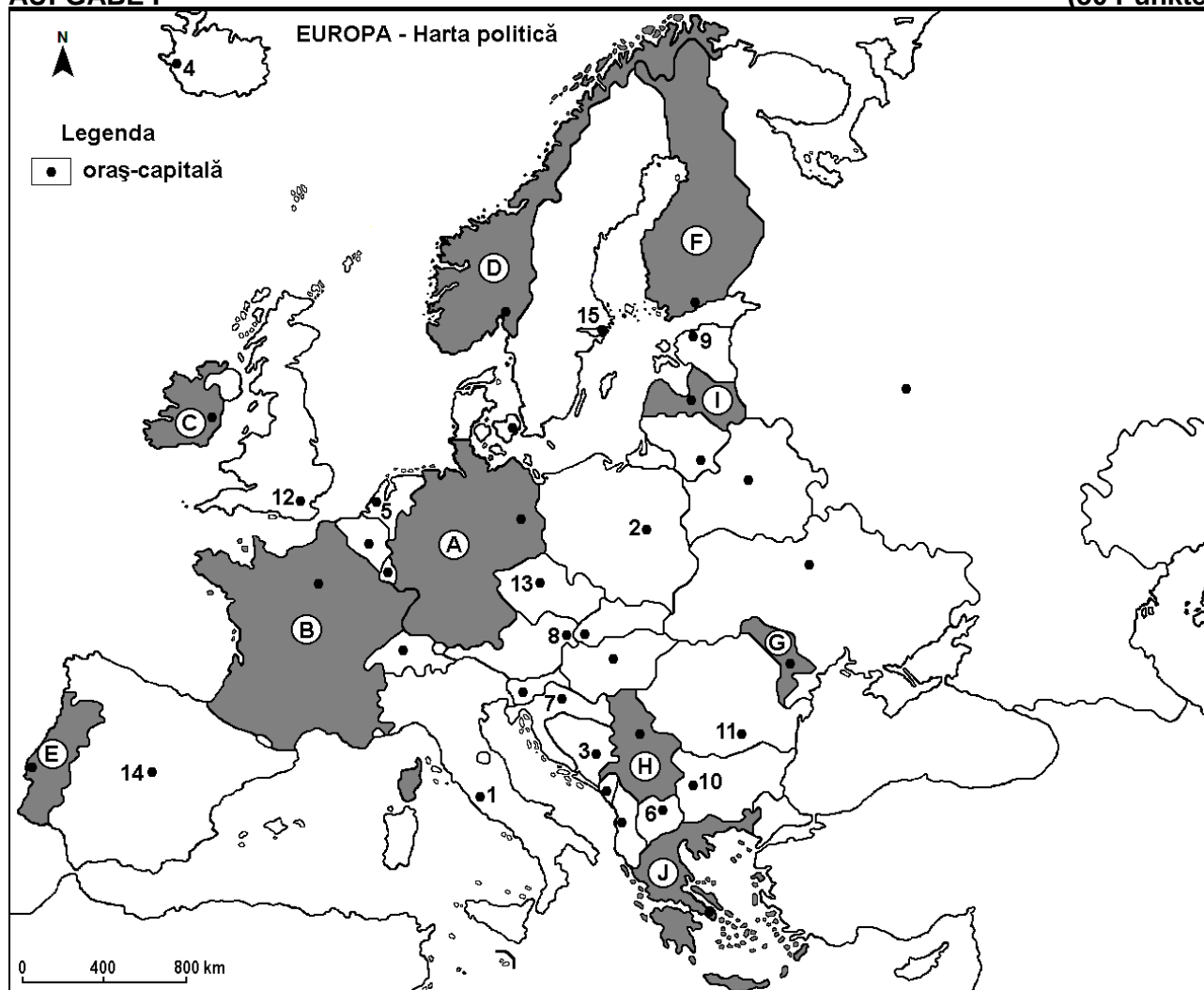
**Varianta 1**

*Profilul umanist din filiera teoretică, profilul servicii din filiera tehnologică și toate profilurile și specializările din filiera vocațională, cu excepția profilului militar*

- Toate subiectele sunt obligatorii. Se acordă zece puncte din oficiu.
- Timpul efectiv de lucru este de trei ore.

**AUFGABE I**

**(30 Punkte)**



Die oben angezeigte Karte bezieht sich auf die Aufgabe I A – D. Auf der Karte sind Staaten mit Buchstaben und Hauptstädte mit Zahlen bezeichnet.

**A. Bestimmt:**

1. den Namen des Staates, der auf der Karte mit dem Buchstaben **E** bezeichnet ist;
2. den Namen der Hauptstadt, die auf der Karte mit der Zahl **13** bezeichnet ist. **4 Punkte**

**B. Schreibt auf das Prüfungsblatt die richtigen Antworten, welche folgende unten angegebenen Aussagen ergänzen:**

1. Die Hauptstadt Rom ist bezeichnet auf der Karte mit der Zahl ...
2. Der auf der Karte mit dem Buchstaben **H** bezeichnete Staat heißt ...
3. Die auf der Karte mit der Zahl **14** bezeichnete Hauptstadt heißt... **6 Punkte**

**C. Schreibt auf das Prüfungsblatt den der richtigen Antwort entsprechenden Buchstaben für jede der folgenden unten angegebenen Behauptungen:**

1. Die Hauptstadt Zagreb ist auf der Karte mit folgender Zahl bezeichnet :  
a. 3                      b. 6                      c. 7                      d. 11                      **2 Punkte**
2. Der Strom Themse(Tamisa) durchquert die Hauptstadt, bezeichnet auf der Karte mit der Zahl :  
a. 1                      b. 12                      c. 13                      d. 14                      **2 Punkte**
3. Die auf der Karte mit der Zahl 9 bezeichnete Hauptstadt heißt :  
a. Kopenhagen              b. Prag                      c. Tallinn                      d. Warschau              **2 Punkte**
4. Die Vegetation vom Typ Maquis befindet sich im Süden des Staates, bezeichnet auf der Karte mit dem Buchstaben:  
a. A                      b. B                      c. C                      d. F                      **2 Punkte**
5. Die Hauptstadt des Staates, bezeichnet auf der Karte mit dem Buchstaben G heißt:  
a. Belgrad                      b. Chișinău                      c. Skopje                      d. Tirana                      **2 Punkte**

D. Bestimmt drei Unterschiede zwischen dem **Klima** des Staates, bezeichnet auf der Karte mit dem Buchstaben D und dem **Klima** des Staates, bezeichnet auf der Karte mit dem Buchstaben J.

**Bemerkung 1:** Die Unterschiede können sich auf jedwelche der folgenden **Klimaelemente** beziehen: klimabestimmende Faktoren, Klimatyp, mittlere Jahres/Sommer/Wintertemperaturwerte, thermische Amplitude, mittlere Jahres/Sommer/Winterniederschlagsmengen, vorwiegende Winde, andere klimatische Aspekte.

**Bemerkung 2:** Die vollständige Punkteanzahl wird nur dann vergeben, wenn die Unterschiede vergleichend und nicht einzeln vorgestellt werden.

**Bemerkung 3:** Es ist **nicht** nötig, die Namen der Staaten zu nennen, man kann sich auf die Staaten auch nur mit den Buchstaben beziehen, mit denen sie auf der Karte bezeichnet sind.      **6 Punkte**

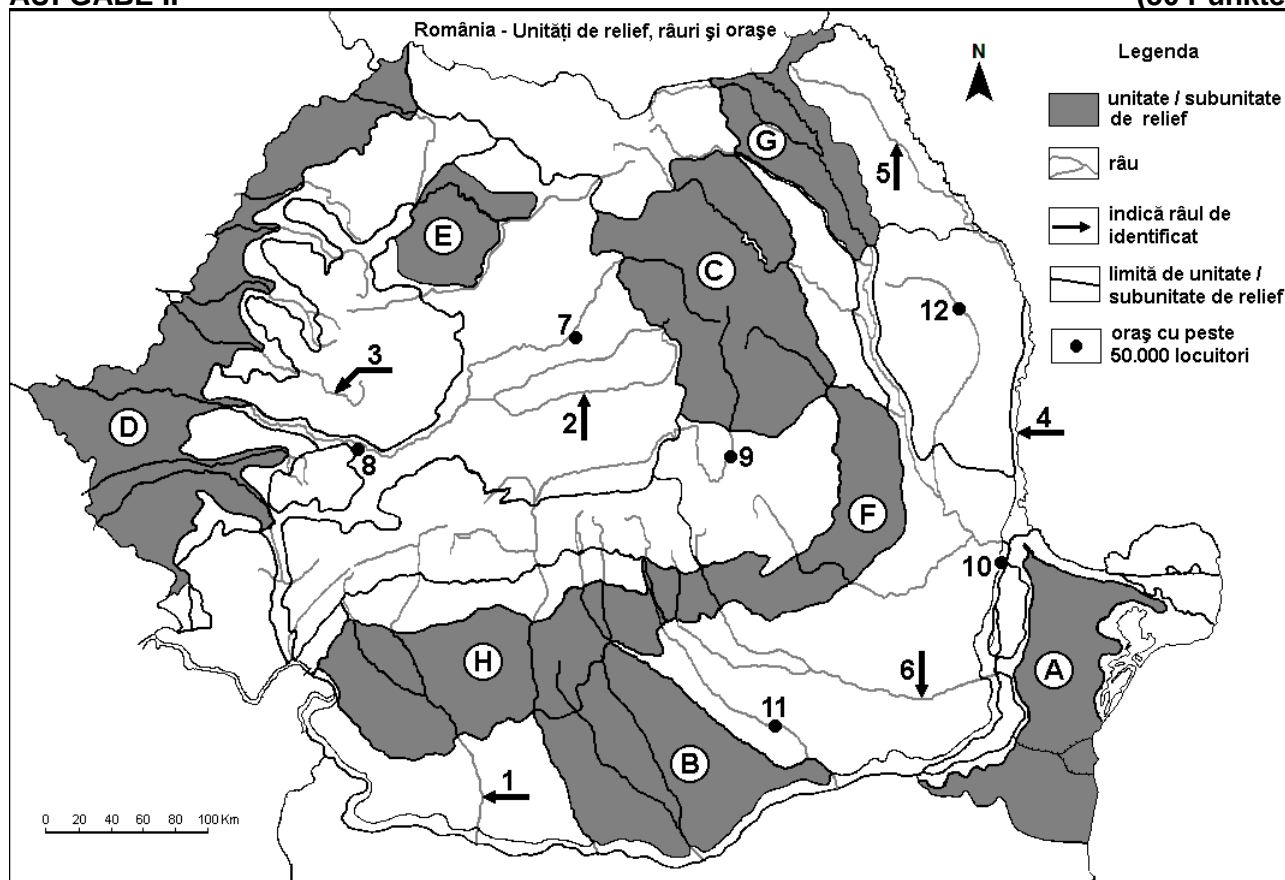
E. Nennt den Namen von:

1. zwei Staaten, auf deren Gebiet sich das Alpengebirge befindet.
2. zwei Hafenstädten am Schwarzen Meer.

**4 Punkte**

## AUFGABE II

**(30 Punkte)**



Die oben angezeigte Karte bezieht sich auf die Aufgabe II A – E. Auf der Karte sind Reliefeinheiten mit Buchstaben, Flüsse mit Zahlen von 1 bis 6 und Städte mit Zahlen von 7 bis 12 bezeichnet.

**A. Bestimmt:**

1. den Namen der Stadt, bezeichnet auf der Karte mit der Zahl **12**;
2. den Namen des Flusses, bezeichnet auf der Karte mit der Zahl **6**. **4 Punkte**

**B. Schreibt auf das Prüfungsblatt die richtigen Antworten, welche folgende unten angegebenen Aussagen ergänzen:**

1. Der auf der Karte mit der Zahl **4** bezeichnete Fluss heißt ...
2. In der herzynischen Orogenese entstandene Gebirge findet man in der Reliefeinheit, bezeichnet auf der Karte mit dem Buchstaben ...
3. Die auf der Karte mit der Zahl **8** bezeichnete Stadt heißt ... **6 Punkte**

**C. Schreibt auf das Prüfungsblatt den der richtigen Antwort entsprechenden Buchstaben für jede der folgenden unten angegebenen Behauptungen:**

1. Die Stadt Brăila ist auf der Karte mit folgender Zahl bezeichnet:  
a. 7                      b. 9                      c. 10                      d. 12                      **2 Punkte**
2. Vom Fluss Someș (Someș) durchquert ist die Reliefuntereinheit, bezeichnet auf der Karte mit dem Buchstaben:  
a. A                      b. E                      c. G                      d. H                      **2 Punkte**
3. Die auf der Karte mit der Zahl **11** bezeichnete Stadt wird durchquert vom Fluss genannt:  
a. Argeș                      b. Dâmbovița                      c. Ialomița                      d. Prahova                      **2 Punkte**
4. Der auf der Karte mit der Zahl **3** bezeichnete Fluss heißt:  
a. Weiße Kreisch(Crișul Alb)                      b. Schwarze Kreisch(Crișul Negru)  
c. Schnelle Kreisch(Crișul Repede)                      d. Mieresch(Mureș)                      **2 Punkte**
5. Zwei Kohlebecken durchquert der Fluss, bezeichnet auf der Karte mit der Zahl:  
a. 1                      b. 2                      c. 3                      d. 5                      **2 Punkte**

**D. Bestimmt drei Unterschiede zwischen der **Reliefeinheit**, bezeichnet auf der Karte mit dem Buchstaben **C** und der **Reliefeinheit**, bezeichnet auf der Karte mit dem Buchstaben **F**.**

**Bemerkung 1:** Die Unterschiede können sich auf jedwelche der folgenden **Reliefaspekte** beziehen: Entstehungsart, Gesteinsarten, auf denen das Relief entstanden ist, Höhen, Zerfurchung, Reliefstufen, Reliefarten, Orientierung der Gebirgsketten und der Haupttäler, Anordnung der Senken und andere spezifische Reliefaspekte.

**Bemerkung 2:** Die vollständige Punkteanzahl wird nur dann vergeben, wenn die drei Unterschiede vergleichend und nicht einzeln vorgestellt werden.

**Bemerkung 3:** Es ist **nicht** nötig, die Namen der Reliefeinheiten zu nennen, man kann sich auf die Reliefeinheiten auch nur mit den Buchstaben beziehen, mit denen sie auf der Karte bezeichnet sind.

**6 Punkte**

**E. Nennt zwei:**

1. natürliche Ressourcen aus der Reliefuntereinheit, bezeichnet auf der Karte mit dem Buchstaben **B**.
2. klimatische Einflüsse, die man in der Reliefeinheit, bezeichnet auf der Karte mit dem Buchstaben **D** verspürt.

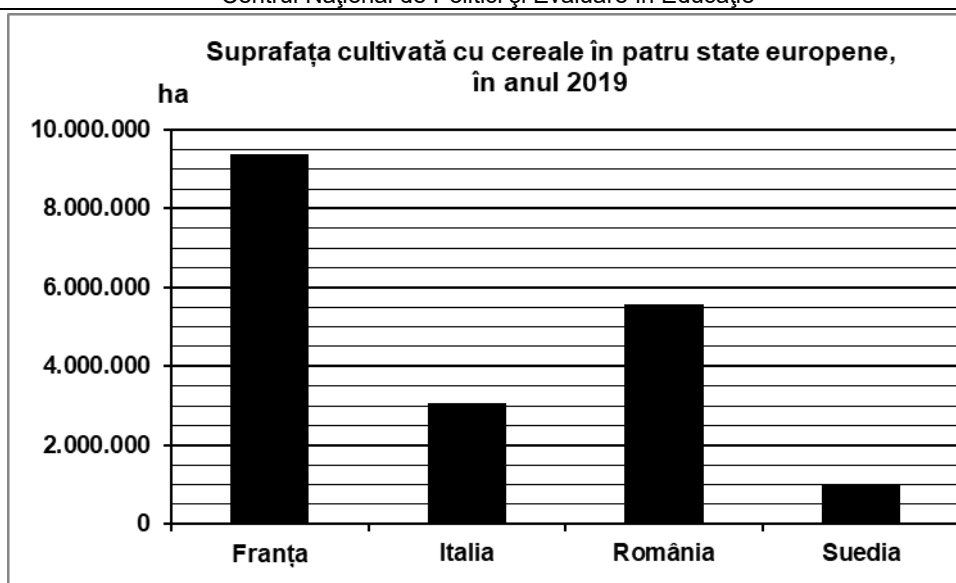
**4 Punkte**

**AUFGABE III**

**(30 Punkte)**

Die unten angezeigte graphische Darstellung bezieht sich auf die Aufgabe **III A-B** und stellt die mit Getreide angebaute Fläche (ausgedrückt in Hektar) in vier europäischen Ländern im Jahr 2019 dar.

Quelle: Eurostat, 2020



**A.** Nennt:

1. den größten Wert der mit Getreide angebaute Fläche, sowie das Land, in welchem er verzeichnet wird;
  2. den kleinsten Wert der mit Getreide angebaute Fläche, sowie das Land, in welchem er verzeichnet wird.
- 4 Punkte**

- B. 1.** Berechnet, mit wieviel die mit Getreide angebaute Fläche aus Rumänien größer ist als die aus Italien .
2. Nennt einen natürlichen Faktor, welcher die geringe, mit Getreide angebaute Fläche in Schweden bestimmt .
  3. Nennt den Namen von zwei Reliefeinheiten aus Rumänien, wo man Getreide auf großen Flächen anbaut.

**6 Punkte**

**C.** Nennt für **Ungarn** den Namen von :

1. drei Nachbarstaaten;
2. zwei Reliefeinheiten;
3. drei fließenden Gewässern;
4. zwei Städten.

**10 Punkte**

**D.** Die unten angezeigte Tabelle bezieht sich auf die Aufgabe **III D-E** und stellt die mittleren Temperaturen der Monate Januar und Juli, sowie die mittlere Jahrestemperatur dar, die in zwei meteorologischen Wetterstationen aus zwei europäischen Hauptstädten verzeichnet werden, die mit den Buchstaben **A** und **B** bezeichnet sind.

Hauptstadt	Mittlere Temperatur des Monats Januar	Mittlere Temperatur des Monats Juli	Mittlere Jahrestemperatur
<b>A</b>	-5,0°C	17,8°C	5,4°C
<b>B</b>	12,5°C	26,5°C	18,7°C

*Quelle: <https://climatecharts.net/>*

1. Berechnet den Wert der jährlichen thermischen Amplitude für jede der beiden Städte.
2. Bestimmt, welche die Stadt **A** und welche die Stadt **B** von den folgenden Städten ist: Bukarest, Helsinki, Valletta.

**6 Punkte**

- E. 1.** Bestimmt den spezifischen Klimatyp für die Hauptstadt, bezeichnet in der Tabelle mit dem Buchstaben **B**.
2. Nennt eine Ursache für den Unterschied zwischen den Werten der mittleren jährlichen Temperatur der beiden Städte.
- 4 Punkte**